

Activity 2.3

พิจารณาภาพต่อไปนี้ และหาภาพที่หายไป

1.

	?	

a. b. c.

2.

		?

a. b. c.

3.

		?

a. b. c.

4.

?		

a. b. c.

5.


	?	

a. b. c.

6.

	?	

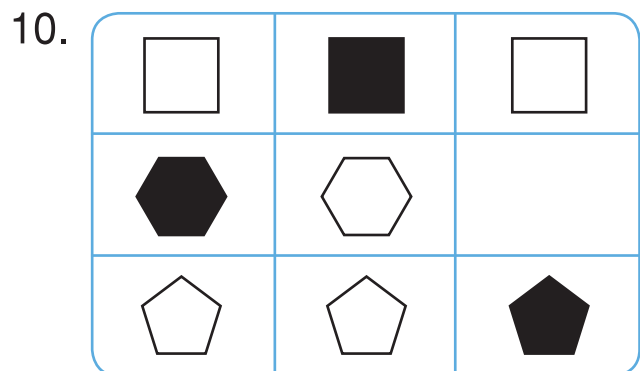
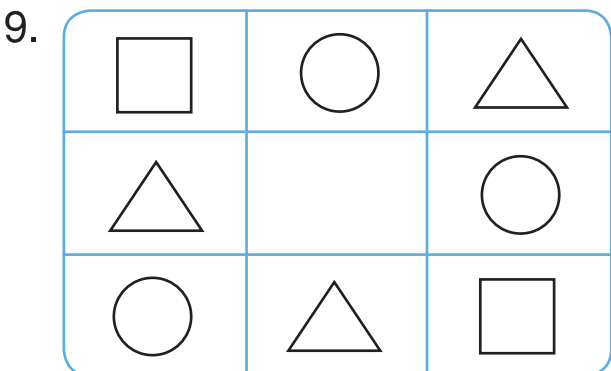
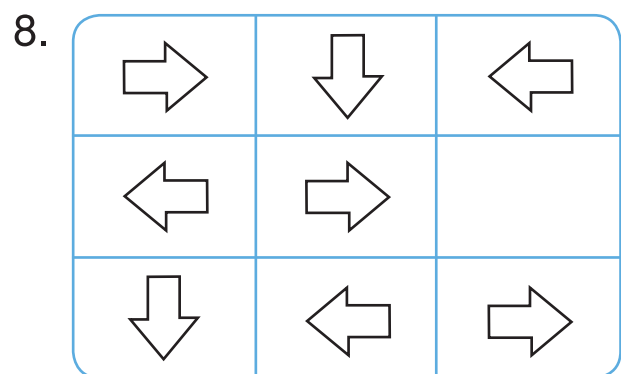

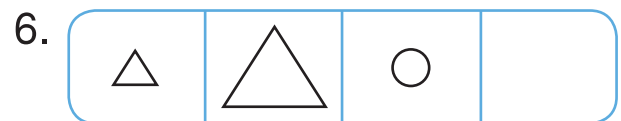
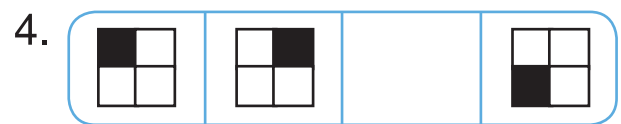
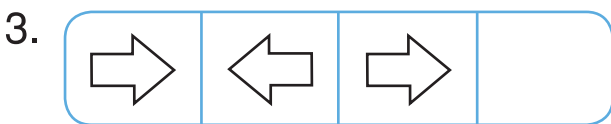
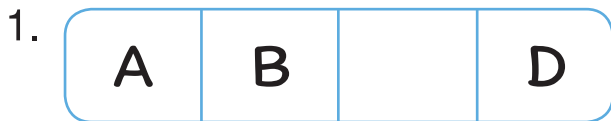
a. b. c.




Activity 2.4

พิจารณาภาพต่อไปนี้ แล้ววาดภาพที่หายไปลงในช่องว่าง

ตัวอย่าง





Activity 2.3

พิจารณาภาพต่อไปนี้ และหาภาพที่หายไป

1.

	?	

a. b. c.

2.

		?

a. b. c.

3.

		?

a. b. c.

4.

?		

a. b. c.

5.

	?	


a. b. c.

6.

	?	

a. b. c.

KEY



Activity 2.4

พิจารณาภาพต่อไปนี้ แล้ววาดภาพที่หายไปลงในช่องว่าง

ตัวอย่าง



1.

A	B	C	D
---	---	---	---

2.

10	11	12	13
----	----	----	----

3.

→	←	→	←
---	---	---	---

4.

■ □ □ □	□ ■ □ □	□ □ □ ■	□ □ ■ □
------------	------------	------------	------------

KEY

5.

△	△	△	△
---	---	---	---

6.

△	△	○	○
---	---	---	---

7.

♥	☆	😊
😊	♥	☆
☆	😊	♥

8.

→	↓	←
←	→	↓
↓	←	→

9.

□	○	△
△	□	○
○	△	□

10.

□	■	□
■	□	□
□	□	■